

ВСЕРОССИЙСКАЯ ОЛИМПИАДА ШКОЛЬНИКОВ
ОСНОВЫ БЕЗОПАСНОСТИ И ЗАЩИТЫ РОДИНЫ
2024/25 УЧЕБНЫЙ ГОД

ШКОЛЬНЫЙ ЭТАП. 8-9 классы

МЕТОДИКА И КРИТЕРИИ ОЦЕНИВАНИЯ

ЗАДАНИЕ 1. Внимательно прочитайте текст:

Шестикласснику Николаю 12 лет, он живет в частном доме со своими родителями. Вместе с семьей Коля проживает пёс породы кавказская овчарка по кличке Пушистик. Рост Пушистика составляет 65 сантиметров в холке, а вес 67 килограммов. Однажды Николай подумал, что надо бы помочь родителям и пойти погулять с Пушистиком. Коля пристегнул к ошейнику Пушистика поводок, затем они вместе вышли за калитку. Выходя, Коля посмотрел на калитку и подумал, что хорошо было бы повесить табличку «Осторожно! Во дворе собака!». Такие таблички он видел на калитках других домов. Впереди на детской площадке Коля увидел своих друзей и решил подойти к ним поздороваться. Ребята весело разговаривали, однако, когда на площадке появились взрослые, то они потребовали, чтобы Николай немедленно ушел вместе с собакой. Коля немного расстроился и решил по пути зайти в магазин за мороженым. Пушистика Коля привязал рядом с магазином и велел ему ждать. Через несколько минут Коля вышел из магазина и повёл собаку домой.

В тексте имеется ряд нарушений не только требований безопасности при выгуле собак, но и Закона Санкт-Петербурга «Об административных правонарушениях в Санкт-Петербурге» от 31.05.2010 № 273-70, касающихся выгула собак.

А) Найдите и выпишите из текста все нарушения закона, которые были допущены.

Б) Запишите содержание норм, которые были нарушены. Что запрещает закон и как предписывает поступать в каждом из найденных вами нарушений?

Варианты ответа:

- А) 1. Коле 12 лет, он выгуливает Пушистика один
2. Коля использовал только поводок
3. На калитке нет предупреждающей таблички «Осторожно! Во дворе собака!»
4. Коля пошел с собакой на детскую площадку
5. Коля оставил собаку одну возле магазина
- Б) 1. Самостоятельно выгуливать собаку, рост которой выше 40 сантиметров в холке, можно только с 14 лет
2. Собака, рост которой выше 40 сантиметров в холке, должна быть в наморднике и на поводке. Также это касается собак потенциально опасных пород независимо от роста и веса
3. При входе на земельный участок должна быть предупреждающая надпись о наличии собак
4. Нахождение собак на детских площадках запрещено
5. Нельзя оставлять собаку без присмотра в общественных местах

Оценка задания. Максимальная оценка за правильно выполненное задание – **20 баллов**, при этом:

- за каждый правильный ответ начисляется **2 балла**;
- допускается изменение формулировки ответов без искажения смысла;
- при отсутствии правильных ответов баллы не начисляются.

Источник: Закон Санкт-Петербурга «Об административных правонарушениях в Санкт-Петербурге» от 31 мая 2010 года № 273-70.

ЗАДАНИЕ 2. Дорожные знаки разделены на 8 групп. Соотнесите номера дорожных знаков с соответствующими им номерами групп. Ответ запишите в таблицу.

№	Наименование знака
1.	Железнодорожный переезд без шлагбаума
2.	Движение пешеходов запрещено
3.	Место остановки автобуса
4.	Уступите дорогу
5.	Подземный пешеходный переход
6.	Пешеходная дорожка
7.	Полиция
8.	Зона действия

№	Группы дорожных знаков
1.	Запрещающие знаки
2.	Информационные знаки
3.	Знаки приоритета
4.	Предписывающие знаки
5.	Знаки особых предписаний
6.	Предупреждающие знаки
7.	Знаки дополнительной информации
8.	Знаки сервиса

Ответ:

Наименование знака	1.	2.	3.	4.	5.	6.	7.	8.
Группа	6	1	5	3	2	4	8	7

Оценка задания. Максимальная оценка за правильно выполненное задание – **10 баллов**, при этом:

- за каждый правильный ответ начисляется **1 балл**;
- при наличии всех правильных ответов дополнительно начисляется **2 балла**;
- при отсутствии правильных ответов баллы не начисляются

ЗАДАНИЕ 3. Для определения порядка действий по оказанию первой помощи пострадавшему необходимо установить его состояние. Какие патологические состояния можно заподозрить у человека, лежащего неподвижно, не реагирующего на внешние раздражители, и каковы их признаки? Заполните пустые ячейки таблицы.

Ответ:






Возможные состояния пострадавшего	Признаки, подтверждающие данное состояние
Клиническая смерть	Отсутствие сознания. Отсутствие пульса на сонной (магистральной) артерии. Отсутствие дыхания
Обморок	Отсутствие сознания не более 4 минут. Наличие пульса на сонной (магистральной) артерии
Кома	Отсутствие сознания более 4 минут. Наличие пульса на сонной (магистральной) артерии
Биологическая смерть	Отсутствие сознания. Отсутствие пульса на сонной (магистральной) артерии. Отсутствие дыхания. Высыхание роговицы. Признак «кошачьего глаза»

Оценка задания. Максимальная оценка за правильно выполненное задание – **8 баллов**, при этом:

- за каждый правильный ответ в графе 1 начисляется **1 балл**;
- за каждый правильный ответ в графе 2 начисляется по **3 балла**;
- при отсутствии правильных и не указанных ответов баллы не начисляются.

ЗАДАНИЕ 4. На рисунках представлены предупреждающие знаки безопасности. В правом столбце таблицы запишите, что означает (о чем предупреждает) каждый знак.

Ответ:

<i>Предупреждающий знак безопасности</i>	<i>Значение знака (о чем предупреждает)</i>
	Опасно. Ядовитые вещества
	Взрывоопасно
	Пожароопасно. Легковоспламеняющиеся вещества
	Радиоактивные вещества или ионизирующее излучение
	Внимание. Электромагнитное поле

Оценка задания. Максимальная оценка за правильно выполненное задание – *7 баллов*, при этом:

- за каждый правильный ответ начисляется *1 балл*;
- при наличии всех правильных ответов дополнительно начисляются *2 балла*;
- при отсутствии правильных и не указанных ответов баллы не начисляются.

ЗАДАНИЕ 5. Установите соответствие между номерами деталей огнетушителя и их названиями. Ответ запишите в таблице.



<i>№</i>	<i>Название детали огнетушителя</i>
А	Баллон стальной
Б	Заряд (диоксид углерода)
В	Чека
Г	Рычаг
Д	Ручка
Е	Пломба
Ж	Сифонная трубка
З	Раструб

Ответ:

<i>№ детали</i>	1	2	3	4	5	6	7	8
<i>Название детали</i>	Г	Е	Д	Ж	Б	А	З	В

Оценка задания. Максимальная оценка за правильно выполненное задание – **16 баллов**, при этом:

- за каждый правильный ответ начисляется **2 балла**;
- при отсутствии правильных и не указанных ответов баллы не начисляются.

ЗАДАНИЕ 6. В современном мире существует множество способов обмана с помощью мобильной связи и интернета. В таблице приведены возможные схемы обмана. Напишите, что нужно предпринять в каждой из ситуаций в первую очередь.

Варианты ответа:





<i>Схема обмана</i>	<i>Действия, которые следует предпринять</i>
SMS. На Ваш номер телефона пришло SMS со следующим содержанием: «По ошибке перевел деньги на вашу карту. Пожалуйста, верните их на номер +7***...»	<i>Не спешите делать перевод. Свяжитесь с банком и узнайте, действительно ли на ваш счет поступили деньги.</i>
Продавец из интернета написал Вам следующее сообщение: «Внесите оплату на мою карту, и только тогда я вышлю вам товар»	<i>Необходимо быть осторожным с предоплатой, ведь собеседник может скрыться как только получит деньги. Делайте покупки только у проверенных продавцов, на официальных сайтах, читайте отзывы.</i>
E-mail. Вам на почту пришло сообщение с подозрительной ссылкой от неизвестного отправителя	<i>Ни в коем случае не переходите по ссылкам от неизвестных отправителей: там может быть вирус, с помощью которого злоумышленник может получить доступ к вашим данным. Заблокируйте адреса и смените пароль.</i>
Звонок. Вам позвонил друг с неизвестного номера и сказал, что попал в аварию и срочно требуются деньги, иначе ему грозит тюрьма	<i>Перезвоните своему другу, который якобы вам звонил, или его родственникам, уточните информацию. Мошенники умеют подделывать голоса, поэтому не стоит доверять таким звонкам.</i>
Звонок. От лица сотрудника банка вам сообщили, что с вашей карты пытались украсть деньги. Для их защиты необходимо назвать реквизиты вашей карты	<i>Если просят назвать секретные данные – сразу кладем трубку. Перезвоните в банк сами, вручную набрав номер, указанный на официальном сайте или обратной стороне вашей банковской карты.</i>

Оценка задания. Максимальная оценка за правильно выполненное задание – **12 баллов**, при этом:

- за каждый правильный ответ начисляется **2 балла**;
- в случае если все ответы верны дополнительно начисляется **2 балла**;
- при отсутствии правильных и не указанных ответов баллы не начисляются.

ЗАДАНИЕ 7.

1) Выберите эмблему органа исполнительной власти, который формирует и публикует федеральный список экстремистских материалов.

А	Б	В	Г
			

2) Назовите данный орган исполнительной власти.

Ответ: 1) А

2) Министерство юстиции Российской Федерации (Минюст России)

Оценка задания. Максимальная оценка за правильно выполненное задание – **10 баллов**, при этом:

- за правильный ответ в части 1 задания начисляется *5 баллов*;
- за правильный ответ в части 2 задания начисляется *5 баллов*;
- при отсутствии правильных ответов, баллы не начисляются.

Ответы на тестовые задания

2	3	4	5	6	7	8
в	в	в	б	а, б, д	в, д	б, г

№ п/п	Тестовые задания	Макс. балл	Кол-во баллов
1	2	3	4
Определите один правильный ответ			
2	Нужно ли иметь водительское удостоверение, чтобы управлять мопедом? а) нужно водительское удостоверение любой категории б) нужно водительское удостоверение категории «А» в) <i>нужно водительское удостоверение категории «М»</i> г) не нужно	1	
3	Частота надавливания при проведении компрессии грудной клетки составляет: а) 60–80 в 1 минуту б) 40–50 в 1 минуту в) <i>не менее 100 в 1 минуту</i> г) 60 в 1 минуту	1	
4	Чем отличается катастрофа от аварии? а) воздействием поражающих факторов на людей б) воздействием на природную среду в) <i>наличием человеческих жертв, значительным ущербом</i> г) воздействием на технику и имущество	1	
5	Национальный антитеррористический комитет занимается: а) устранением последствий ЧС б) <i>координацией органов исполнительной власти РФ и органов местного самоуправления по противодействию терроризму</i> в) изданием законов, которые описывают меры наказания за терроризм г) ведением уголовных дел террористов	2	
Определите все правильные ответы			
6	Выберете необходимые условия для горения огня: а) <i>наличие окислителя (кислорода);</i> б) <i>наличие горючего материала;</i> в) <i>наличие избыточного давления;</i>	3	

	г) наличие сильного ветра; д) наличие источника температуры, достаточного для воспламенения.		
7	Признаки, указывающие на наркотическое отравление: а) тошнота и рвота б) головокружение в) сужение зрачков и ослабление их реакции на свет г) кровотечение из носа д) покраснение кожи	2	
8	Какой сигнал должен подать велосипедист перед поворотом налево или разворотом: а) вытянуть в сторону правую руку, либо вытянуть в сторону левую руку, согнутую в локте б) вытянуть в сторону левую руку в) поднять вверх правую или левую руку г) вытянуть в сторону правую руку, согнутую в локте д) велосипедисту подавать сигналы не требуется	2	

Оценка задания. Максимальная оценка за правильно выполненное задание – **17 баллов.**

Количество баллов, начисляемых за верный ответ по каждому вопросу, указано в тексте задания.

В случае если даны верные ответы на все задания, дополнительно начисляется **5 баллов.**